


# Klecksaufgaben / Lückenaufgaben


1 Faktor einstellig, ein Faktor zweistellig

Finde die Zahlen unter den Klecksmonstern!


1. 

3	5	•	7
	2	4	


2. 

2	6	•	6
	1	5	


3. 

8	2	•	7
	5	7	


4. 

2	9	•	3
		8	


5. 

9	8	•	8
	7	8	


6. 

3	9	•	5
	1	9	


7. 

3	2	•	8
	2	5	


8. 

3	6	•	4
	1	4	


9. 

9	8	•	2
	1	9	


10. 

5	8	•	5
	2	9	


11. 

8	5	•	7
	5	9	


12. 

6	6	•	6
	3	9	


13. 

3	4	•	8
	2	7	


14. 

7	8	•	6
	4	6	


15. 

9	9	•	7
	6	9	


16. 

2	9	•	8
	2	3	


17. 

6	7	•	5
	3	3	

18. 

5	7	•	9
	5	1	

19. 

7	5	•	4
	3	0	

20. 

5	5	•	8
	4	4	